

Nas questões de 1 a 30, marque, de acordo com o comando de cada uma delas: itens **CERTOS** na coluna **C**; itens **ERRADOS** na coluna **E**. Na Folha de Respostas, a marcação na coluna **SR** não acarretará anulação; servirá somente para caracterizar que o candidato desconhece a resposta correta. Use a Folha de Rascunho para as devidas marcações e, posteriormente, a **Folha de Respostas**.

LÍNGUA PORTUGUESA

Texto LP-I – questões 1 e 2

A

O brasileiro nasce ouvindo que este é o país do futuro. A frase pode soar esperançosa, mas não passa do mais puro conformismo. Há uma crise de liderança mundial, mas, no Brasil, a impunidade é uma constante histórica, e o desprezo pelo interesse público ultrapassa tudo o que se possa imaginar. O Brasil precisa de um ideal e de um projeto.

Boni — José Bonifácio de O. Sobrinho (consultor).

B

O Brasil já é o país do futuro. O problema é que não somos capazes de ver isso. Temos tendência à autoflagelação. Em vez de enxergar as coisas maravilhosas que há em nosso país, sofremos com os defeitos, exagerando-os.

Roberto Drummond (escritor).

C

Esse futuro que não chega é o grande mistério do Brasil. Ninguém sabe a resposta. Parece que estamos cada vez pior. Chego a pensar que se o Brasil tivesse sofrido uma revolução seríamos um país diferente. Se tivesse uma fórmula para sair da crise, eu me candidataria a governante.

João Ubaldo Ribeiro (escritor).

D

Não acho que há um futuro que não chega. Ele vem aos poucos. Podemos notar avanços. Temos uma sociedade mais articulada e conseguimos, apesar dos arranhões, a democracia. Faltam a construção de instituições e partidos fortes. O momento é crítico, mas podemos ver certos avanços dentro da própria crise.

Bóris Fausto (historiador).

E

O Brasil tem um potencial que, infelizmente, não se concretizou. Por isso, surgem previsões otimistas para contrabalançar frustrações. Crescimento não depende apenas de potencial e otimismo, mas também de vontade e capacidade. Aí está nosso trunfo. Temos sensibilidade e solidariedade exemplares, evidências de maturidade.

Silvano Raia (médico e professor da USP).

Fragmentos adaptados de **Veja**, 6/6/2001, p. 40 a 45.

QUESTÃO 1

A propósito das idéias dos fragmentos do texto LP-I, julgue os itens seguintes.

- 1 A impunidade como “constante histórica”, mencionada no fragmento A, faz parte do “grande mistério”, mencionado no fragmento C.
- 2 O “puro conformismo”, a que se refere o fragmento A, é criticado no fragmento D: “o momento é crítico”.
- 3 A afirmação “Temos tendência à autoflagelação”, no fragmento B, é reforçada pelo que diz o fragmento E: “Temos sensibilidade e solidariedade exemplares”.
- 4 Os fragmentos B e D partilham a confiança de que é no futuro que o Brasil avançará para a democracia plena.
- 5 O “potencial”, a que se refere o fragmento E, aparece nomeado como “futuro” nos demais fragmentos, ora realizado, ora não.

QUESTÃO 2

Julgue os itens que se seguem quanto às alterações propostas nas estruturas lingüísticas dos fragmentos do texto LP-I.

- 1 Mantém-se o respeito às regras de regência da norma culta ao se suprimir, no fragmento A, a preposição “de” que antecede “um projeto”.
- 2 No fragmento B, a palavra “ver” pode ser substituída por **vermos** sem comprometimento das regras gramaticais.
- 3 Considerando que o fragmento C respeita as regras da norma culta, a forma verbal “tivesse”, no último período desse fragmento, tem como sujeito subentendido o pronome **eu**.
- 4 No fragmento D, o emprego do plural na forma verbal “Faltam” indica que está subentendida a palavra **construção** diante de “partidos fortes”.
- 5 No fragmento E, é facultativo o emprego da vírgula após “Por isso”.

Um clarão no céu do Brasil

Há entre nós uma força que parece ter se articulado espontaneamente em torno de um esforço permanente para solapar a auto-estima do povo brasileiro. Seus agentes atacam sempre com o mesmo discurso, com pequenas variações aqui e ali. No entanto, essa gente vale-se de um artifício manhoso, que é extrair partes de uma verdade, temperá-las com premissas falsas, guarnecer com um pouco de má-fé ou inocência útil e servir o prato requentado como novidade.

Surpreendida com o racionamento de energia, quando técnicos e políticos ainda se digladiam em torno de causas do déficit e das medidas para combatê-lo, a população está dando um exemplo eloqüente de solidariedade e responsabilidade.

O que se está vendo é que a população prefere a verdade, por mais dura que ela possa ser. Para formar a sua verdade, gosta de ouvir o contraditório, aprendeu a depurar a informação.

A sociedade pode estar mais exigente — ressentida, até —, mas está mais madura para dar novos passos e não se mostra disposta a perder as conquistas desses anos todos, que não são poucas nem pequenas.

Não somos um país de coitadinhos. Antes, somos um povo temperado por uma experiência muito rica, sobretudo no que se refere aos últimos anos, quando tivemos de aprender com muita rapidez aquilo que há décadas imaginávamos inalcançável.

Jaime Lerner. "Opinião". In: *Folha de S. Paulo*, 27/5/2001, A3 (com adaptações).

QUESTÃO 3

Julgue os itens seguintes, acerca das idéias do texto LP-II.

- O título faz um jogo de idéias: “clarão” pode ser compreendido como oposto a *apagão* e como *sinal de esperança*.
- O autor associa o pronome “nós” (R.1) a população, sociedade e povo brasileiro.
- O texto esclarece que os “agentes” da “força” mencionados no primeiro parágrafo são os técnicos e políticos mencionados no segundo parágrafo.
- A argumentação do texto permite prever que “essa gente” (R.5) tem grande probabilidade de ter sucesso nos seus intentos.
- Pela organização das idéias no quarto parágrafo, depreende-se que o período de tempo compreendido por “últimos anos” (R.22) estende-se por mais de duas décadas.

QUESTÃO 4

Julgue se os itens a seguir apresentam correção gramatical e reproduzem os mesmos sentidos dos trechos do texto LP-II indicados.

- Primeiro período (R.1-3): Para solapar a auto-estima do povo brasileiro, foi articulada espontaneamente por nós uma força que parece um esforço permanente.
- “a população (...) responsabilidade.” (R.11-12): um exemplo eloqüente de solidariedade e de responsabilidade está sendo dado pela população.
- “O que se está (...) possa ser.” (R.13-14): A verdade é preferível ao que a população está se vendo, por mais difícil que possa ser.
- “e não (...) pequenas.” (R.17-19): e não mostra disposição para perder às conquistas desses anos todos, quer sejam poucas ou pequenas.
- “Não somos (...) muito rica,” (R.20-21): Somos primeiramente um povo temperado por uma experiência muito rica, para ser depois, um país de coitadinhos,

QUESTÃO 5

A tentativa de implantação da cultura européia em extenso território, dotado de condições naturais, se não adversas, largamente estranhas à sua tradição milenar, é, nas origens da sociedade brasileira, o fato dominante e mais rico em conseqüências. Trazendo de países distantes nossas formas de convívio, nossas instituições, nossas idéias, e timbrando em manter tudo isso em ambiente muitas vezes desfavorável e hostil, somos ainda hoje desterrados em nossa própria terra. Podemos construir obras excelentes, enriquecer nossa humanidade de aspectos novos e imprevistos, elevar à perfeição o tipo de civilização que representamos: o certo é que todo o fruto de nosso trabalho ou de nossa preguiça parece participar de um sistema de evolução próprio de outro clima e de outra paisagem.

Assim, antes de perguntar até que ponto poderá alcançar bom êxito a tentativa, caberia averiguar até onde temos podido representar aquelas formas de convívio, instituições e idéias de que somos herdeiros.

Sérgio Buarque de Hollanda. *Raízes do Brasil*. São Paulo: Cia. das Letras, 1995, p. 31.

Julgue os itens a seguir, a respeito do emprego da seguinte oração no texto acima: “somos ainda hoje desterrados em nossa própria terra” (R.8).

- Essa oração representa a idéia central do primeiro parágrafo.
- As idéias que antecedem essa oração, das linhas de 1 a 8, mostram as razões dessa afirmação.
- As idéias que completam o primeiro parágrafo, das linhas de 8 a 14, representam um desdobramento, ou uma explicação, do que afirma essa oração.
- O segundo parágrafo do texto corresponde à negação dessa idéia: não é verdade que somos desterrados em nossa própria terra.
- Considerando que o autor, na obra indicada no texto, afirma que “a falta de coesão em nossa vida social não representa, assim, um fenômeno moderno”, conclui-se que a oração em destaque acima contradiz essa afirmação.

NOÇÕES DE LÍNGUA INGLESA

Text LI-I – questions 6 through 8

The Balcón SEBRAE Uruguay was specially created to contact and guide both people who want to initiate a business and those enterprises already working, which are seeking information about markets, offer and demand, franchising opportunities, international societies, Joint Ventures, as well as business meetings and roundtable meetings.

It was born as the result of an agreement signed on 5/11/96 among the Bank of the Republic (EMPRETEC) and SEBRAE, and its objective is to assist an important sector of the national economies of both countries, looking for an increase in commerce relationships within an international integration framework.

The Balcón SEBRAE Uruguay is operated by specialized staff who are well-informed and sensitive to the entrepreneur's needs. It offers wide information on commercialisation, taxes, management, technology, exports, markets, brands and registrations and this information will be available for both Uruguayan and Brazilian entrepreneurs.

Besides an existing office in Porto Alegre (Uruguai St. 167 — Telephone: 051 215 5162; Fax: 051 226 8246), its complete database is linked to an information network that covers Brazilian territory, with more than 2,000 *balcões* and SEBRAE offices where you can offer your products or services, or make public your demand for them.

Internet: <http://www.empretec-uruguay.org/logros_pyp_centro_eng.htm>. Access on June 3rd, 2001 (adapted).

QUESTÃO 6

Based on text LI-I, it can be concluded that the Balcón SEBRAE URUGUAY

- 1 was founded to give assistance to two types of clients.
- 2 provides financial support to those interested in opening a new business.
- 3 was created six years ago.
- 4 deals with any kind of enterprise.
- 5 aims at improving commercial transactions between two South American countries.

QUESTÃO 7

From text LI-I, it can be deduced that

- 1 micro and small enterprises cannot be considered relevant economic segments.
- 2 any businessmen can count on SEBRAE's help.
- 3 SEBRAE basic role concentrates on giving commercial information.
- 4 Porto Alegre office is in Uruguai St.
- 5 there are more than 2,000 SEBRAE offices all over Brazil.

QUESTÃO 8

In text LI-I,

- 1 "to initiate" (R.2) is the same as **to set up**.
- 2 "those" (R.3) refers to "people" (R.2).
- 3 "as well as" (R.6) is synonymous with **as good as**.
- 4 "its" (R.9) refers to SEBRAE (R.9).
- 5 "sensitive" (R.14) is the same as **sensible**.

Text LI-II – questions 9 and 10

Very small and small-sized enterprises play an important role in the Brazilian economy, particularly in terms of job creation and income distribution. In Brazil, there are 4.5 million enterprises at present, 98% of which are small-sized, making up 48% of the total Gross Domestic Product (GDP) and employing 60% of the work-force. Yet, empirical data show that very small and small-sized enterprises (with an annual turnover up to around US\$ 0.7 million) suffer from a high rate of failure (65% close down before three years).

Two main reasons can explain this situation: i) while it is acknowledged that the role of the entrepreneur is fundamental to the success of a small firm, there is an obvious lack of entrepreneurial efficiency at very small and small enterprise level and no capacity-building programmes for present and future entrepreneurs; ii) small entrepreneurs' lack information, e.g. on financing, new markets and technologies, possible national or international partnerships, and management.

Internet: <<http://www.undp.org.br/empretec.htm>>. Access on June 3rd, 2001 (adapted).

QUESTÃO 9

Based on text LI-II, it can be concluded that

- 1 very small and small-sized companies add up a total of more than twice as much that of other companies.
- 2 Brazilian economy is highly dependent on very small and small-sized enterprises.
- 3 small enterprises are particularly important as far as new jobs are concerned.
- 4 more than half of Brazilian GDP comes from small-sized enterprises.
- 5 the majority of Brazil's work-force works in small-sized companies.

QUESTÃO 10

From text LI-II, it is clear that

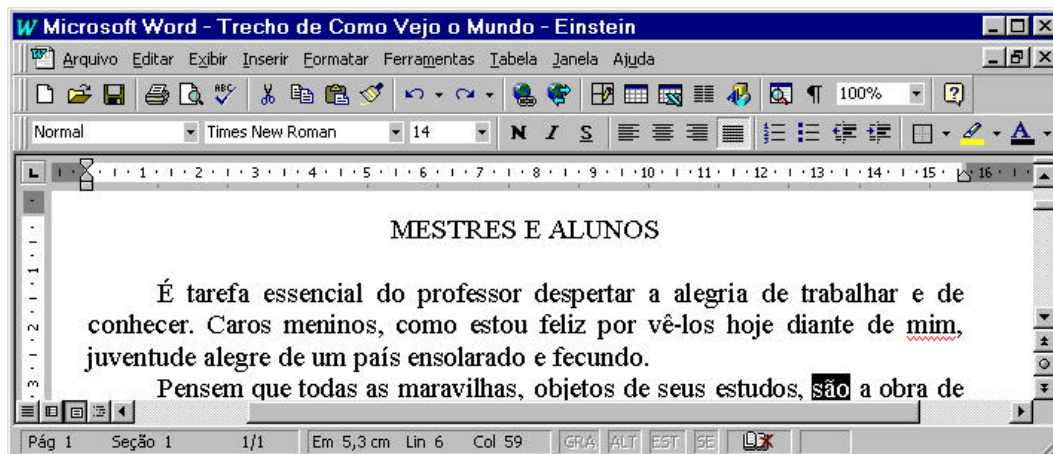
- 1 only 35% of very small sized and small-sized companies last three years, at least.
- 2 only two reasons would account for small-sized companies' failure.
- 3 entrepreneurs in small-sized companies need training.
- 4 it is not possible for small entrepreneurs to participate in international business.
- 5 all entrepreneurs need is information.

CONHECIMENTOS DE INFORMÁTICA

Nas questões de **11 a 15**, considere que todos os programas mencionados estão em configuração-padrão, em português, e que o *mouse* está configurado para pessoas destros. Assim, a menos que seja explicitamente informado o contrário, expressões como clicar, clique simples e clique duplo referem-se a cliques com o botão esquerdo do *mouse*. Considere também que não há restrições de proteção e de uso em relação aos programas, arquivos, diretórios e *hardware* utilizados.



Texto CI-I – questões 11 e 12

A janela do Word 97 abaixo apresenta parte de um texto digitado por um usuário.







QUESTÃO 11

Com relação à figura do texto CI-I e ao Word 97, julgue os seguintes itens.

- 1 Caso o usuário deseje selecionar todo o primeiro parágrafo, ele poderá fazê-lo com sucesso por meio do seguinte procedimento, executado com o *mouse*: posicionar o ponteiro imediatamente à esquerda do início do primeiro parágrafo; pressionar o botão esquerdo e, mantendo-o pressionado, posicionar o ponteiro imediatamente à direita do final desse mesmo parágrafo; liberar o botão esquerdo.
- 2 Caso o usuário deseje visualizar qual será a aparência de toda a página que está sendo exibida na figura associada ao texto CI-I quando ela for impressa, ele poderá fazê-lo com sucesso clicando no botão .
- 3 Caso o usuário deseje sublinhar a palavra “despertar”, na primeira linha do primeiro parágrafo do texto, ele poderá fazê-lo com sucesso por meio da seguinte sequência de ações: selecionar a referida palavra, pressionar simultaneamente as teclas **S**, **I** e **U**.
- 4 Caso dois documentos estejam abertos no Word 97 e o documento ativo seja o mostrado na figura, para ativar o outro documento aberto, o usuário terá sucesso simplesmente clicando em .
- 5 Caso o usuário clique imediatamente à esquerda da palavra “tarefa”, na primeira linha do primeiro parágrafo, pressione a tecla **S** e, mantendo-a pressionada, tecele uma vez a tecla **↵**, liberando em seguida a tecla **S**, o ponto de inserção será posicionado imediatamente à esquerda da primeira letra da palavra “essencial”.

QUESTÃO 12

Ainda com relação à figura do texto CI-I e ao Word 97, julgue os itens abaixo.

- 1 Caso o usuário selecione a palavra “conhecer”, na segunda linha do primeiro parágrafo do texto, e clique no botão , essa palavra será removida do documento e colocada na área de transferência.
- 2 Caso o usuário deseje abrir a caixa de ferramentas Desenho, ele poderá fazê-lo com sucesso clicando no botão .
- 3 Caso o usuário clique imediatamente à esquerda da palavra “alegria”, na primeira linha do primeiro parágrafo, e pressione sucessivamente as teclas **A**, **L**, **E**, **G**, **R**, **I** e **A**, ao final dessa sequência de ações, a palavra “alegria” estará formatada como negrito.
- 4 Caso o usuário deseje que os caracteres não-imprimíveis que indicam marcas de parágrafo sejam exibidos na tela, ele poderá fazê-lo com sucesso clicando no botão .
- 5 A caixa  indica que o texto digitado mostrado na figura está armazenado na pasta de nome Times New Roman.

QUESTÃO 13

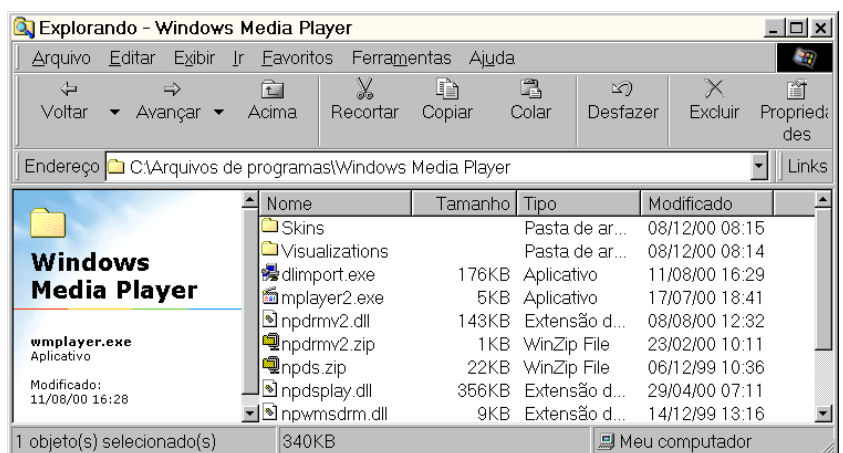
Um empregado elaborou uma planilha contendo, em reais, os gastos de uma pequena empresa com energia elétrica, água e aluguel, nos três primeiros meses de um determinado ano. A figura acima mostra uma janela do Excel 97 com a planilha elaborada. Com relação à figura e ao Excel 97, julgue os itens a seguir.

- 1 Caso desejasse calcular a soma dos gastos com aluguel nos três meses mostrados, pondo o resultado na célula F5, o empregado poderia fazê-lo com sucesso por meio da seguinte seqüência de ações: clicar na célula F5; clicar em ; teclar « .
- 2 Caso desejasse calcular a média dos gastos com aluguel nos três meses mostrados, pondo o resultado na célula F5, o empregado poderia fazê-lo com sucesso por meio da seguinte seqüência de ações: clicar na célula F5; digitar =MÉDIA(C5:E5); teclar « .
- 3 Caso deseje adicionar uma borda externa a toda a tabela, o empregado poderá fazê-lo com sucesso por meio da seguinte seqüência de ações: selecionar todas as células da tabela; clicar em .
- 4 Caso deseje copiar o conteúdo da célula E4 para a célula F4, o empregado poderá fazê-lo com sucesso por meio da seguinte seqüência de ações: clicar em E4; pressionar a tecla .
- 5 Caso o empregado clique na célula E4 e aplique dois cliques simples sucessivos no botão , o conteúdo dessa célula será alterado para 91,00.

QUESTÃO 14

A figura ao lado ilustra a janela do Windows Explorer executado em um determinado computador, cujo sistema operacional é o Windows 98. Acerca dessa figura, do Windows Explorer e do Windows 98, julgue os itens a seguir.







- 1 O espaço em memória ocupado pelo arquivo **wmplayer.exe** é superior a 900.000 bytes.
- 2 É correto concluir que os subdiretórios **Skins** e **Visualizations**, por apresentarem o campo **Tamanho** em branco, não contêm arquivos nem subdiretórios internos.
- 3 É possível enviar o arquivo **npds.zip** para a Lixeira por meio da seguinte seqüência de ações: selecionar o arquivo **npds.zip**; clicar em ; na caixa de diálogo que aparece em decorrência dessa ação, confirmar o envio para a Lixeira.
- 4 Caso se queira mover o arquivo **npdsplay.dll** para o subdiretório **Skins**, será correta a seguinte seqüência de ações: selecionar o arquivo **npdsplay.dll**; clicar em ; aplicar um duplo clique sobre o subdiretório **Skins**, o que fará o Windows Explorer se posicionar no subdiretório **Skins**; clicar em .
- 5 Caso se deseje posicionar o Windows Explorer no diretório C:\, será suficiente acionar o botão duas vezes consecutivas.



QUESTÃO 15



A figura acima ilustra uma página do site do SEBRAE, acessado por meio do Internet Explorer 5. Acerca dessa figura, do Internet Explorer 5, do Windows 98 e da Internet, julgue os itens a seguir.

- 1 A informação contida na barra de endereços do Internet Explorer 5 indica que o URL (*uniform resource locator*) da página ilustrada na figura é <http://www.sebrae.com.br>.
- 2 Caso se deseje realizar *download* de informações contidas no site do SEBRAE de forma segura, evitando, por exemplo, que vírus de computador sejam transferidos para o computador do usuário que esteja realizando o *download*, ou, até mesmo, que essas informações não sejam acessíveis por pessoas estranhas ao processo, deve-se utilizar, em vez do protocolo HTTP, o protocolo FTP (*file transfer protocol*). O inconveniente desse procedimento é uma maior lentidão no processo de *download*, causada pelo incremento da dimensão dos arquivos a serem transferidos, provocado, por sua vez, pela aplicação de técnicas de criptografia.
- 3 Caso se deseje definir a página ilustrada na figura como a página inicial do Internet Explorer 5, será suficiente que o botão  seja acionado com o botão direito do *mouse*. A partir dessa ação, toda vez que se desejar acessar essa página inicial, será suficiente clicar com o botão esquerdo do *mouse* o mesmo botão .
- 4 Caso se deseje iniciar uma pesquisa na Internet, a partir de qualquer site especializado, previamente predefinido como o site de busca do Internet Explorer 5, é suficiente que o usuário clique em . Dessa maneira, caso o site de busca seja o www.altavista.com, ao clicar em , a página indicada por www.altavista.com será acessada, o campo  <http://www.sebrae.com.br/> passará a indicar www.altavista.com, e será iniciado automaticamente um processo de pesquisa relacionada à palavra *sebrae*.
- 5 Caso se deseje enviar o link www.sebrae.com.br a um destinatário qualquer por meio de *e-mail*, poderão ser utilizados recursos associados ao botão .

CONHECIMENTOS GERAIS

QUESTÃO 16

O veterano repórter político do Jornal do Brasil, Villas-Bôas Corrêa, escreveu em sua coluna de 18 de julho de 2001:

Como envelheceu mal o velho Senado dos tempos do repórter parlamentar Machado de Assis! A inacreditável novela, de infindáveis capítulos dos escândalos que não se esgotam, envolvendo o presidente da Casa, senador Jader Barbalho, denuncia a crise institucional do Congresso, inserida na falência dos demais poderes, com a veemência que explode com a força de uma maldição.

Fecha-se o cerco, com a cobrança da imprensa, que despertou da displicente sonolência e com o surdo clamor das ruas, captado pelos ouvidos políticos sintonizados com o eleitor em véspera de renovação de mandatos nas urnas múltiplas de 6 de outubro de 2002.

A propósito do que escreveu o jornalista e da crise a que se refere, julgue os itens seguintes.

- 1 O autor deplora o estágio a que chegou o Senado nos dias de hoje, comparando-o com um passado em que a Casa contava com senadores da envergadura moral e intelectual de alguém como Machado de Assis.
- 2 Na perspectiva do autor, a atual crise que envolve o Senado Federal circunscreve-se à figura de seu presidente, senador Jader Barbalho (PMDB – PA); depreende-se, pois, que seu afastamento do cargo poderia solucionar o problema que tanto desgasta o Poder Legislativo.
- 3 Pela análise de Villas-Bôas Corrêa, fica claro que a atual crise por que passa o Senado Federal somente não é mais grave porque é autônoma, isto é, restringe-se ao âmbito do Poder Legislativo e, como tal, não se vincula nem repercute nos Poderes Executivo e Judiciário.
- 4 O que mais causa perplexidade, segundo o jornalista, é o fato de que os meios de comunicação social, normalmente atentos e prontos a denunciar irregularidades praticadas por políticos, tenham se mantido quase que à margem da crise que envolve o senador Jader Barbalho.
- 5 Quando o autor fala em “urnas múltiplas de 6 de outubro de 2002”, ele está se referindo às eleições gerais do próximo ano, quando, simultaneamente, estarão sendo eleitos presidente, governadores, dois terços dos senadores, deputados federais e estaduais.

QUESTÃO 17

Nada mais atual que o clima de apreensão, nos meios financeiros internacionais, quanto à crise profunda que envolve a Argentina. Relativamente ao quadro geral apresentado por esse país e às suas possíveis repercussões na economia de seus vizinhos, entre os quais o Brasil, julgue os itens que se seguem.

- 1 Pode-se dizer, com segurança, que os males que afligem a Argentina resultam, fundamentalmente, de sua recusa em adotar as políticas neoliberais preconizadas pelo Fundo Monetário Internacional e pelo Banco Mundial. Nesse sentido, o que a Argentina fez nos últimos anos foi acompanhar a opção de autonomia e fortalecimento do Estado que, em geral, toda a América Latina praticou.
- 2 Quando a Argentina conseguiu domar a inflação, há cerca de dez anos, fixando a paridade de sua moeda — o peso — com o dólar, o país aproveitou para investir maciçamente no setor produtivo, modernizando-o e gerando os empregos de que necessitava; hoje, corre o risco de ver essas conquistas desaparecerem.
- 3 No momento em que as perspectivas são sombrias para a economia argentina, as atitudes do governo brasileiro têm sido cautelosas e voltadas para a tentativa de encontrar saídas favoráveis ao seu vizinho. Vê-se, com isso, que Brasília compreende que quanto maior for a crise argentina maiores e piores serão seus efeitos no MERCOSUL e na economia brasileira.
- 4 Importante vitória política do governo argentino, em sua luta para garantir o chamado “déficit fiscal zero”, considerado fundamental para que o país possa respirar, foi a adesão ao plano dos governadores oposicionistas do Partido Institucionalista, que administram 14 das 23 províncias do país.
- 5 Não deverá ser fácil a batalha empreendida pelo governo de la Rúa para alcançar o “déficit zero”. Ao propor medidas como redução de salários e do valor das aposentadorias, o governo sabe que terá de enfrentar a reação de seus próprios aliados no Congresso, das entidades sindicais e dos funcionários públicos.

QUESTÃO 18

Para muitos especialistas, trata-se de verdadeira revolução na geografia urbana brasileira. É o Estatuto das Cidades, lei sancionada em julho de 2001, pelo presidente Fernando Henrique Cardoso, depois de longa — mais de dez anos — e difícil tramitação no Congresso Nacional. Relativamente às normas contidas no Estatuto das Cidades, julgue os itens seguintes.

- 1 De uma forma geral, o Estatuto beneficia a população de baixa renda; exemplo disso é o dispositivo que permite a emissão do título de propriedade, nos próximos dois anos, para moradores de favelas, observadas determinadas condições.
- 2 Na tentativa de combater a especulação imobiliária, o Estatuto autoriza o poder público a cobrar alíquota progressiva do Imposto Predial e Territorial Urbano (IPTU) de proprietário de imóvel não-utilizado ou subutilizado, podendo chegar à desapropriação.
- 3 O Estatuto das Cidades trata de uma modalidade especial de usucapião: ao ocupante de área urbana de até 250 m², por cinco anos, que não sofrer oposição de alguém, serão conferidos o respectivo título e o direito de registrar o imóvel em cartório.
- 4 Devido à pressão política exercida pelos prefeitos municipais, o Estatuto retrocedeu em relação a leis anteriores, ao eliminar a obrigatoriedade de as cidades com mais de 20 mil habitantes contarem com um plano diretor que definiria os rumos de seu crescimento.
- 5 O Estatuto das Cidades torna obrigatória, antes da instalação de bares e estabelecimentos comerciais, a realização de Estudo de Impacto de Vizinhança. Assim, ao responsável pelo empreendimento, incumbe apresentar documento que demonstre seus efeitos sobre a qualidade de vida dos moradores da região.

QUESTÃO 19

Os termos **globalização**, surgido nos Estados Unidos da América (EUA), e **mundialização**, utilizado pelos franceses, são semanticamente equivalentes: ambos definem a mesma realidade contemporânea, notadamente em sua significação econômica. A propósito dessa realidade global, com a qual o mundo convive nos dias de hoje, julgue os itens que se seguem.

- 1 A atual economia globalizada pressupõe a transformação de um simples mercado internacional em autêntico mercado mundial, o que requer, de todos os países, de maneira equânime, a abertura de seus mercados ao comércio externo, eliminando-se barreiras alfandegárias e políticas protecionistas.
- 2 Já houve quem cunhasse a expressão *globalitarismo*, mesclando globalização com totalitarismo. Com ela, pretende-se denunciar a volúpia com que os grandes beneficiários dos mercados mundializados se lançam à tarefa de defender um único modelo econômico passível de existir na atualidade, o chamado “pensamento único”.
- 3 Nos últimos anos, os encontros do G-8 — governantes das 7 economias mais poderosas do mundo, acrescidas da Rússia e de organismos internacionais, como FMI, OMC e Banco Mundial — têm sido marcados pela crescente presença de manifestações que se opõem aos rumos ditados para a globalização. Não raro, tais manifestações acabam por se transformar em choques violentos com as forças policiais.
- 4 Uma forma de se contrapor aos Fóruns Econômicos Mundiais é a realização dos Fóruns Sociais Mundiais, como ocorreu no passado recente em Porto Alegre. É a ocasião em que se destaca o debate em torno de temas como, entre outros, exclusão social, proteção ambiental e defesa dos direitos humanos.
- 5 Chamou a atenção da opinião pública mundial o descaso com a segurança, por parte do governo italiano, nos preparativos para a reunião do G-8 marcada para julho de 2001, em Gênova. Fiando-se em seu histórico de lutas em prol dos direitos humanos e da ecologia, o comunista Silvio Berlusconi, novo primeiro-ministro italiano, imaginou serem mínimas as chances de manifestações opositoras durante a reunião.

QUESTÃO 20

As ações de política externa da administração George W. Bush têm causado apreensão em importantes sedes de governo, em várias partes do mundo. A propósito desse tema, julgue os itens seguintes.

- 1 Desde sua posse, Bush tem feito uso de uma retórica conciliadora, bem típica de seu partido, o Democrata. Com isso, ganhou a desconfiança dos setores direitistas, os “falcões”, normalmente filiados ao Partido Republicano.
- 2 Apesar de alguns percalços iniciais, Bush conseguiu o apoio unânime da comunidade científica de seu país, especialmente pelo expressivo aumento das verbas para a pesquisa e de seu interesse em financiar projetos voltados para as regiões mais pobres do planeta, como a África.
- 3 Ao anunciar um ambicioso e caro projeto de defesa, o de escudo antimísseis, Bush reacendeu o discurso da guerra fria, incomodou seus aliados europeus e promoveu a reaproximação entre Rússia e China.
- 4 Para os presidentes Vladimir Putin (Rússia) e Jiang Zemin (China), a estratégia de Bush viola, na prática, o Tratado de Mísseis Antibalísticos que os EUA e a URSS firmaram em 1972. Para eles, esse tratado sempre foi um ponto-chave para a estabilidade estratégica e a base para a redução do número de armas ofensivas.
- 5 O discurso de Bush é sempre o mesmo, toda vez que é acusado de ressuscitar a guerra fria: sua decisão de acabar com a OTAN é a demonstração cabal de seu compromisso com a paz.

CONHECIMENTOS ESPECÍFICOS

Texto CE-I – questões de 21 a 24

Uma empresa agropecuária contratou um gerente de agronegócios, pagando salário fixo mais participação sobre o lucro líquido. A empresa dedica-se, há alguns anos, à exploração comercial das culturas de soja, milho e feijão em uma área total de 1.000 hectares irrigados com pivô central. As glebas irrigadas encontram-se altamente infestadas com plantas daninhas de folha estreita e folha larga, devido a problemas de manejo deficiente ao longo dos anos.

A empresa deseja expandir suas atividades, incorporando ao processo produtivo uma área de 2.000 hectares, ainda inexplorada, na mesma propriedade. A área a ser incorporada é dividida em três glebas, de acordo com as suas características edáficas: A) baixada sujeita a encharcamento periódico do solo; B) encosta com média de 5% de declividade, apresentando latossolo vermelho-amarelo profundo e bem drenado, porém com baixa fertilidade, baixo pH e elevado teor de alumínio em todo o perfil; C) encosta com 2% de declividade, apresentando solo profundo, bem drenado, corrigido e com alta fertilidade. A precipitação média anual na região é de 1.700 mm, com maior concentração durante o verão.

QUESTÃO 21

Com base nas condições apresentadas no texto CE-I e considerando a possibilidade de incorporação das novas glebas ao processo produtivo da empresa, deve-se

- 1 incluir a atividade pecuária, implantando pastagem, pois a integração agricultura-pecuária apresenta uma série de vantagens técnicas e econômicas, ocasionando uma maior estabilidade de produção e de retorno financeiro à empresa, a médio e longo prazos.
- 2 cultivar milho durante dois anos na gleba B, previamente à implantação de pastagem. Essa prática visa amortizar os custos de correção e fertilização do solo e, pelo fato de corretivos e fertilizantes necessitarem de um tempo médio de dois anos para reagir no solo, permitindo o pleno desenvolvimento da pastagem.
- 3 explorar a gleba A com a cultura do arroz ou com pastagem de *Brachiaria humidicola*, pelo menos enquanto persistirem as condições de drenagem deficiente, por serem essas espécies mais tolerantes ao excesso de umidade no solo.
- 4 explorar a gleba B inicialmente com arroz ou com pastagem de *Andropogon gayanus*, pela rusticidade e alta tolerância dessas espécies às condições de solo apresentadas pela referida gleba.
- 5 explorar a gleba C com uma cultura mais exigente e rentável, como, por exemplo, a cana-de-açúcar, caso haja comprador interessado na região, ou com uma pastagem mais nobre, como o *Panicum maximum*, também mais exigente em solo, porém de melhor qualidade que outras pastagens.

QUESTÃO 22

Considerando os aspectos edáficos contidos no texto CE-I, julgue os seguintes itens.

- 1 Se o resultado da análise de solo mostrar que a saturação de bases do solo nas áreas irrigadas encontra-se em 60%, a partir dessa informação, o gerente deverá recomendar a aplicação de 4 ton/ha de calcário dolomítico, para atingir o nível de 100% de saturação de bases, considerado o ideal para as culturas de milho, soja e feijão.
- 2 O gerente deverá proceder, previamente à semeadura de uma cultura anual, ao terraceamento da gleba B, com terraços de base larga para o aproveitamento total da área, seguido de calagem do solo e seu preparo pelo método convencional, por meio de uma aração e duas gradagens.
- 3 Para melhorar o desenvolvimento do sistema radicular das culturas, tornando-as mais produtivas e menos sensíveis aos problemas de deficiência hídrica durante seu ciclo, após a calagem com calcário dolomítico, o gerente deverá recomendar a distribuição de gesso na gleba B, a lançar e em cobertura, sem incorporação.
- 4 O gerente deverá optar pela substituição do sistema convencional de preparo do solo pelo plantio direto — ou semeadura direta — nas áreas com solo corrigido, para a melhor preservação dos recursos naturais e a redução do período de pousio entre culturas.
- 5 O gerente deverá realizar uma aração anual profunda — 30 cm — no início da estação chuvosa, nas áreas sob plantio direto, para evitar os problemas de compactação e adensamento do solo, comuns nesse sistema.

QUESTÃO 23

Acerca do texto CE-I e do manejo cultural adequado, o gerente de agronegócios deverá recomendar

- 1 a inoculação das sementes de feijão e soja, previamente à semeadura, com estirpes de *Bradyrhizobium*, seguida da aplicação de 40 kg de nitrogênio por hectare em cobertura aos trinta dias após a semeadura, pelo fato de a inoculação das sementes não ser suficiente para o suprimento de todo o nitrogênio demandado por essas culturas.
- 2 a aplicação inicial de um herbicida de manejo — ou dessecante — para o plantio direto da cultura da soja, seguido por um herbicida residual pré-emergente e, ainda, caso haja necessidade, também por um herbicida pós-emergente, durante o desenvolvimento vegetativo da cultura.
- 3 duas pulverizações de inseticidas, visando o controle de percevejos durante a fase vegetativa da soja, haja vista que estes são considerados as pragas mais importantes nessa fase, e mais uma pulverização para o controle de lagartas desfolhadoras durante a fase reprodutiva.
- 4 a instalação de tensiômetros nas áreas sob pivô, ou tanque classe A na propriedade, para a racionalização do uso da água, uma vez que foi informado que a propriedade deve reduzir em 20% o consumo de energia, em função da escassez energética brasileira atual.
- 5 a colheita parcialmente mecanizada do feijão e do milho, fazendo o arranquio manual das plantas no ponto de maturação fisiológica, quando elas apresentam o máximo acúmulo de matéria seca. Em seguida, o enleiramento manual para a rápida dessecação do material e posterior trilha e limpeza por meio de uma colhedora combinada automotriz, equipada com plataforma especial para o recolhimento do produto.

QUESTÃO 24

Considerando ainda a situação hipotética apresentada no texto CE-I, e visando os sistemas agrícolas mais adequados para a empresa, o gerente deverá propor o(a)

- 1 cultivo apenas de feijão na área irrigada, por ser a mais rentável entre as três, deixando as culturas de soja e milho para as áreas não-irrigadas. Isso permite três safras anuais de feijão em função de seu curto ciclo. Além disso, possibilita uma maior especialização dos empregados no manejo da irrigação da cultura.
- 2 produção de sementes certificadas em vez de grãos, para aumentar os lucros a longo prazo. Para isso, o gerente deverá solicitar o registro da empresa na entidade certificadora local, a contratação de um engenheiro agrônomo para o acompanhamento do processo de produção e a instalação de uma unidade de beneficiamento de sementes própria e exclusiva.
- 3 aumento do uso de fertilizantes por unidade de área, especialmente os foliares, em função das maiores exigências da cultura da soja por fertilizantes, tendo em vista a sugestão de expansão da área cultivada com soja pela diretoria da empresa, em detrimento do milho e do feijão.
- 4 quimigação, via pivô central, o que reduzirá consideravelmente os custos operacionais, por possibilitar a aplicação simultânea de todos os fertilizantes e agrotóxicos necessários à cultura do feijão.
- 5 introdução da cultura do algodão nas áreas cultivadas, em esquema de rotação, por apresentar tratos culturais muito similares aos das culturas já exploradas e aproveitar o mesmo parque de máquinas, da semeadura à colheita, já disponível na empresa para as outras culturas.

QUESTÃO 25

**Aumento dos recursos para a
pecuária deve estimular renda e produção**

O aumento dos recursos destinados à pecuária previstos no Plano de Safra 2001/2002, anunciado pelo governo, deverá estimular a produção e melhorar a renda dos produtores. Entre os pontos mais importantes do Plano estão os reajustes nos limites de crédito por produtor em linhas como o Prosolo e o Proposto, além dos limites de financiamento de custeio para a pecuária, que aumentaram de R\$ 60 mil para R\$ 150 mil.

A recuperação das pastagens contribuirá para o aumento do número de bovinos por hectare. O reajuste nos recursos para investimento no setor agropecuário servirá também para cobrir os custos dos produtores com a compra de insumos, cujos preços, no ano 2000, tiveram um crescimento médio de 9,84%, enquanto, no mesmo período, a renda no setor aumentou 7,18%.

Dos R\$ 86 bilhões do produto interno bruto (PIB) brasileiro — que está estimado em US\$ 767,6 bilhões em 2001 — projetados para a agropecuária em 2001, R\$ 40,89 bilhões referem-se exclusivamente aos ganhos da atividade pecuária dentro das fazendas. O agronegócio da pecuária, que envolve também os segmentos de insumos e distribuição dos produtos, totalizou R\$ 95,4 bilhões no ano 2000, um aumento de 5% com relação a 1999. Em 2001, espera-se que esse agronegócio cresça 5% com relação ao resultado do ano 2000.

Internet: <Agronline.com.br>. Acesso em 12/7/2001 (com adaptações).

Com base no texto acima, julgue os seguintes itens.

- 1 O aumento nos limites dos financiamentos de custeio para a pecuária foi superior a 150%.
- 2 No ano 2000, a taxa de crescimento médio dos preços dos insumos no setor agropecuário foi superior a 135% da taxa de aumento de renda naquele setor.
- 3 Com relação aos valores projetados para 2001 e considerando que US\$ 1 corresponda a R\$ 2,50, conclui-se que o total referente, exclusivamente, aos ganhos da atividade pecuária dentro das fazendas, enquanto representa menos de 50% do total do PIB brasileiro correspondente à agropecuária, representa mais de 2% do PIB brasileiro.
- 4 Em 1999, o agronegócio da pecuária totalizou mais de R\$ 91 bilhões.
- 5 Os valores correspondentes aos totais relativos ao agronegócio da pecuária de 1999 e 2000 e o valor esperado para 2001 formam, nessa ordem, uma progressão geométrica de razão igual a 1,05.

RASCUNHO

O governo federal destinará R\$ 14,7 bilhões para o Plano Agrícola e Pecuário 2001, representando um acréscimo de 30% em relação ao ano passado. Os agricultores terão substancial aumento de crédito para custeio, por beneficiário/ano, dos principais produtos. O limite de custeio para o algodão será igual a $\frac{4}{3}$ do valor destinado para financiamento dessa cultura em 2000. Para a soja, esse limite de custeio será aumentado em 100%, enquanto, para a fruticultura, o limite será igual a 2,5 vezes o valor correspondente em 2000. Ao todo, para o custeio de algodão, soja e fruticultura, serão destinados, em 2001, um total de R\$ 750 mil, superando em R\$ 290 mil o valor destinado ao custeio dessas culturas em 2000. Nessas condições, sabendo que, em 2000, o montante destinado ao algodão superou em R\$ 140 mil a soma dos valores destinados à soja e à fruticultura, julgue os itens a seguir.

- 1 Em 2001, o montante destinado para as três culturas mencionadas corresponde a 0,5% do total de recursos do Plano Agrícola e Pecuário de 2001.
- 2 Os números correspondentes às razões dos limites de custeio, em 2001 e em 2000, para as culturas de algodão, soja e fruticultura formam, nessa ordem, uma progressão aritmética.
- 3 Em 2001, foi destinada uma menor quantidade de recursos para o custeio da fruticultura do que para o custeio da soja.
- 4 O montante destinado em 2000 para o custeio do algodão foi igual ao triplo do destinado ao custeio da soja.
- 5 Em 2001, o montante destinado ao custeio da fruticultura foi superior a R\$ 200 mil.

QUESTÃO 27

Quanto a motivação, julgue os itens seguintes.

- 1 A recompensa monetária, a exemplo da *stock-option*, é determinante na motivação.
- 2 Se um empregado possui uma boa situação financeira, ofertas de melhores salários por outras empresas serão certamente recusadas.
- 3 O adequado emprego de técnicas e instrumentos de política de recursos humanos pode motivar uma pessoa.
- 4 Considerando o atual nível de desemprego e distribuição de renda, proporcionar um bom salário, alimentação, transporte e ambiente de trabalho adequado irá produzir um empregado motivado.
- 5 Se um indivíduo fica motivado por determinado benefício, por exemplo, um plano de aposentadoria, a ausência do benefício irá torná-lo desmotivado.

QUESTÃO 28

Com relação ao armazenamento e ao controle de materiais, julgue os itens que se seguem.

- 1 Uma das vantagens do armazenamento é permitir a redução do impacto de variações conjunturais sobre o preço de *commodities*.
- 2 Na curva ABC, os itens classificados como A são aqueles de menor importância e representam, em geral, mais de 50% dos itens em estoque.
- 3 Na avaliação dos estoques pelo método LIFO ou UEPS, a valorização do saldo deve ser fundamentada nos últimos preços.
- 4 Em economias de inflação elevada, o método FIFO, ou PEPS, é procedimento indicado para a avaliação de estoques porque, ao contabilizar o material pela ordem de entrada, poderá não refletir o custo desse material segundo as condições de mercado.
- 5 A estocagem por agrupamento, embora facilite as tarefas de arrumação e procura, não assegura o melhor aproveitamento do espaço.

QUESTÃO 29

Com referência às modalidades de procedimentos licitatórios, julgue os seguintes itens.

- 1 A tomada de preços é efetuada mediante convocação específica a um grupo determinado de pessoas, cuja idoneidade será verificada no curso do procedimento, que exige um mínimo de publicidade indispensável para a observância do princípio da isonomia.
- 2 A concorrência é realizada por meio de convocação genérica de um número indeterminado de pessoas, cuja idoneidade será verificada no curso do procedimento, e que, devido à amplitude da convocação, exige grande publicidade.
- 3 O concurso é efetuado por meio de convocação genérica de um número indeterminado de pessoas, cuja idoneidade pode ser verificada, e que exige publicidade adequada para atingir um número razoável de possíveis interessados.
- 4 O convite é realizado mediante convocação genérica a um grupo determinado de pessoas, cuja idoneidade é presumida, e que, pelo pequeno alcance, não exige publicidade.
- 5 O leilão, que se destina especificamente à alienação de bens previamente avaliados, é efetuado mediante convocação genérica a um número indeterminado de pessoas, que apresentarão suas propostas mediante lances formulados oralmente, e que deve ser precedido de grande publicidade.

QUESTÃO 30

Julgue os itens a seguir, relativos ao processo de planejamento.

- 1 A missão de uma organização descreve uma situação desejada que se pretende alcançar.
- 2 Um dos benefícios do planejamento é focar os esforços organizacionais em uma única direção.
- 3 Atualmente, as atividades de planejamento tendem para a centralização em órgãos ou departamentos especializados, capazes de coletar, sistematizar e analisar as informações de um ambiente complexo e competitivo.
- 4 O processo de planejamento envolve decisões sobre objetivos, ações futuras e recursos necessários.
- 5 No planejamento, deve ser evitada a ocorrência de sinergia entre as áreas.